

Nimi:

Kool:

Klass:

Kuupäev:

Vastused leiate plaanil küsimuse numbriga märgitud punktides!

1. Kes on **miilu** ja kus on tema oletatav looduslik levila?

.....
Mis tähtsus on loomaaedadel miilu saatuses?

.....

2. Kui kauaks **jäävad** jääkaru pojad ema juurde?

.....
Mis tähtsus on jääkaru valgel värvusel ja seest õõnsatel karvadel?

.....

3. Uuri **takiini** levikukaarti ja järelda, kas takiinil on kitsas või lai levila

Vaatle takiini välimust ja otsusta, millisesse imetajate seltsi ta kuulub


- a) kiskjaliste selts
- b) näriliste selts
- c) sõraliste selts

4. **Buhhaara hirve** looduslik levila asub

.....
Milline buhhaara hirve sugulane elab Euroopas, sealhulgas Eestis?

5. Miks saab **kodustatud jakk** elada ka kõrgmäestiku külmas kliimas?

.....
Mis kasu on jakkidest inimestele? Vastused kirjuta joonisel asuvatele nooltele.




6. **Bennetti känguru** poeg areneb

.....
Känguru kasutab oma saba

7. Miks hävis **Prževalski hobune** loodusest?

.....
Mis tähtsus on loomaaedadel tema saatuses?

Vaatle hobuseid aedikus ja kirjuta nooltele kehaosa nimetus (ninamik, lakk, kere, kõrvalestad, jalad, saba,) punktiirile kirjuta selle kehaosa värvus.



8. Vaatle **hallhülgeid** ja kirjuta vähemalt 2 välistunnust, mis võimaldavad neil edukalt hakkama saada vees.

1)

2)

9. **Jaapani makaagid** elavad karjas. Kes on nende karja juhiks?

Makaakide toiduks on

Millist toitu on makaakidele täna loomaaias antud?

10. Milliste imetajate lähim sugulane on **guanako**?

Millisel mandril on guanako looduslik levila?

11. Mis ohustab **amuuri leopardi** looduses?



.....

Kui suur arv amuuri leopardi elutseb praegu looduses?

Täida kokkuvõtte tänasest õppekäigust.

Millised täna vaadeldud imetajad tunned ära joonistelt? Kirjuta liiginimed punktiirile.

.....



Otsusta iga joonisel oleva looma kohta, kas ta kuulub **pärisimetajate** (P) või **alamimetajate** ehk kukkurloomade (A) hulka. Märki õige täht ülemise kasti sisse.



Märki alumise kasti sisse, kas joonisel olev imetaja on **taimtoiduline** (T), **loomtoiduline** (L) või **segatoiduline** (S).