

Nimi:

Kool:

Klass:

Kuupäev:

Vaatle loomi, loe silte ja stende ning täida ülesanded.

1. Aafrika elevandid elavad looduses väikeste karjadena.


Kes on nende karja juhiks?

Kui palju vajab elevandit päevas toitu ja vett

Kuidas elevandikarjad suhtlevad omavahel?

2. Gröönimuskusveis on kohastunud elama arktilises tundras.

Mis ohustab tänapäeval muskusveiseid nende elupaigas? Kirjuta 4 tegurit.



3. Milliste imetajate lähim sugulane on **guanako**?

Millisel mandril on guanako looduslik levila?

Kasutades Lõuna- ja Kesk-Ameerika loomastiku stendi andmeid, ühenda loom sobiva tunnusega:

opossum

toitub termiidest

kapibaara

kabjaline loom

sipelgaõgija

kukkurloom

taapir

küüruta kaamel

guanako

suurim näriline

4. **Jaapani makaagid** elavad karjas. Kes on nende karja juhiks?

Makaakide toiduks on

Vaata aedikusse, mis toitu on makaakidele täna loomaaias antud?

.....

5. Vaatle **hallhüljest** ja kirjuta vähemalt 2 tunnust, kuidas tema kehaehitus on kohastunud eluks vees?

1)

2)

Milliste tunnuste poolest isasloom erineb emasloomast?


.....

6. Miks hävis **Prževalski hobune** loodusest?

.....

Kuidas see liik taastati?

Vaatle hobuseid aedikus ja kirjuta punktiirile kehaosa nimetus (ninamik, lakk, kere, kõrvalestad, kabjad, jalad, saba).



7. **Vööthüääni** toiduks on


.....

Teised hüääniliigid on

Täida kokkuvõte tänasest õppekäigust.

Kirjuta liiginimed punktiirile.

.....



Otsusta joonistel olevate loomade kohta, kas nad elavad looduses **üksikult** (Ü) või **karjas** (K)? Märgi õige täht ülemise kasti sisse.



Märki alumise kasti sisse, kas joonisel olev imetaja on **taimtoiduline** (T), **loomtoiduline** (L) või **segatoiduline** (S).